

ԲՈՒՀԻ ՀԵՌԱԿԱ ՈՒՍՈՒՑՄԱՆ
ԸՆԴՈՒՆԵԼՈՒԹՅԱՆ ՔՆՆՈՒԹՅՈՒՆ

2022

ԱՇԽԱՐՀԱԳՐՈՒԹՅՈՒՆ

ԹԵՍՏ 2

Խմբի համարը

Նստարանի համարը

Հարգելի՛ դիմորդ

Խորհուրդ ենք տալիս առաջադրանքները կատարել ըստ հերթականության: Ուշադիր կարդացե՛ք յուրաքանչյուր առաջադրանք և պատասխանների առաջարկվող տարբերակները: Եթե Ձեզ չի հաջողվում որևէ առաջադրանքի անմիջապես պատասխանել, ժամանակը խնայելու նպատակով կարող եք այն բաց թողնել և դրան անդրադառնալ ավելի ուշ:

Ձեր առջև դրված թեստ-գրքույկի էջերի դատարկ մասերը ազատորեն կարող եք օգտագործել սևագրության համար: ***Թեստ-գրքույկը չի ստուգվում: Ստուգվում է միայն պատասխանների ձևաթուղթը:***

Առաջադրանքները կատարելուց հետո չմոռանաք պատասխանները ուշադիր և խնամքով նշել պատասխանների ձևաթղթում: Պատասխանների ձևաթղթի ճիշտ լրացումից է կախված Ձեր քննական միավորը:

Մաղթում ենք հաջողություն:

1 Հասարակական աշխարհահամակարգ է.

- 1) անապատը
- 2) ճահիճը
- 3) անտառը
- 4) քաղաքը

2 Հյուսիսային կիսագնդի լեռների ո՞ր լանջերն են առավել շատ անտառապատ.

- 1) հարավարևելյան
- 2) հյուսիսային
- 3) հյուսիսարևելյան
- 4) հարավային

3 Հորիզոնի ո՞ր կողմի ազիմուտն է 270°:

- 1) արևմտյան
- 2) հարավային
- 3) արևելյան
- 4) հյուսիսային

4 Քարտեզում 2 կետերի հեռավորությունը 7 սմ է, իսկ իրականում՝ 49 կմ: Այդ քարտեզի մասշտաբը կլինի.

- 1) 1 : 70 000 000
- 2) 1 : 70 000
- 3) 1 : 700 000
- 4) 1 : 7000 000

5 Այն ասույները, որոնք չեն հասցնում մթնոլորտում այրվել և ընկնում են Երկրի վրա, կոչվում են.

- 1) արբանյակներ
- 2) երկնաքարեր
- 3) աստղակերպեր
- 4) գիսավորներ

6 Յուրաքանչյուր ժամային գոտու ժամանակը հարևան գոտու ժամանակից տարբերվում է.

- 1) 60 րոպեով
- 2) 15 րոպեով
- 3) 30 րոպեով
- 4) 45 րոպեով

7

Նկար 1-ում պատկերված է.

- 1) հրաբուխ
- 2) ջրհոր
- 3) գեյզեր
- 4) ջրվեժ

Նկար 1



8

Փոխակերպային ապար է.

- 1) քարածուխը
- 2) մարմարը
- 3) կրաքարը
- 4) բազալտը

9

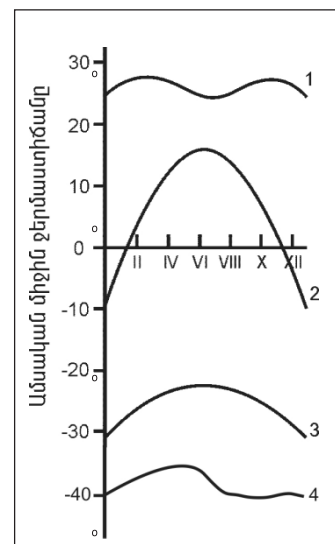
Մթնոլորտային ցածր ճնշման մարզը կոչվում է.

- 1) անտիցիկլոն
- 2) ցիկլոն
- 3) տորնադո
- 4) թայֆուն

10

Նկար 2-ում n^o թվով է նշված օդի ջերմաստիճանի տարեկան ընթացքի կորը բարեխառն լայնություններում:

- 1) 4
- 2) 1
- 3) 2
- 4) 3



Նկար 2

11 Նշվածներից ո՞ր ծովը Անտարկտիդայի ափերը չի ողողում:

- 1) Ամունդսենի
- 2) Բարենցի
- 3) Բելինսհաուզենի
- 4) Ռոսսի

12 Գետի լայնակի կտրվածքի մակերեսը 4 մ^2 է, արագությունը՝ 3 մ/վ : Գետի ծախսը կլինի.

- 1) $36 \text{ մ}^3/\text{վ}$
- 2) $12 \text{ մ}^3/\text{վ}$
- 3) $70 \text{ մ}^3/\text{վ}$
- 4) $24 \text{ մ}^3/\text{վ}$

13 Գոլորշացման քանակը արտահայտում են.

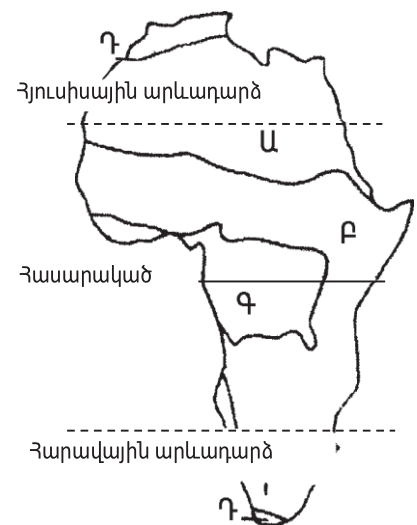
- 1) բալով
- 2) միլիմետրով
- 3) տոկոսով
- 4) գրամով

14 Մթնոլորտային տեղումներից ո՞րը Երկրի մակերևույթ չի թափվում ամպերից.

- 1) ցող
- 2) անձրև
- 3) ձյուն
- 4) կարկուտ

15 Նկար 3-ում ո՞ր թվով է պատկերված սավանաների զոնան:

- 1) Դ
- 2) Ա
- 3) Բ
- 4) Գ



Նկար 3

16

Ի՞նչն է առավելապես շատ բնորոշ տունդրայի բնական զոնային:

- 1) խոտակեր խոշոր կենդանիների տարածումը
- 2) հողի բազմամյա սառածությունը
- 3) պոդոլային հողերի գերակշռությունը
- 4) ծառային բուսականության տարածումը

17

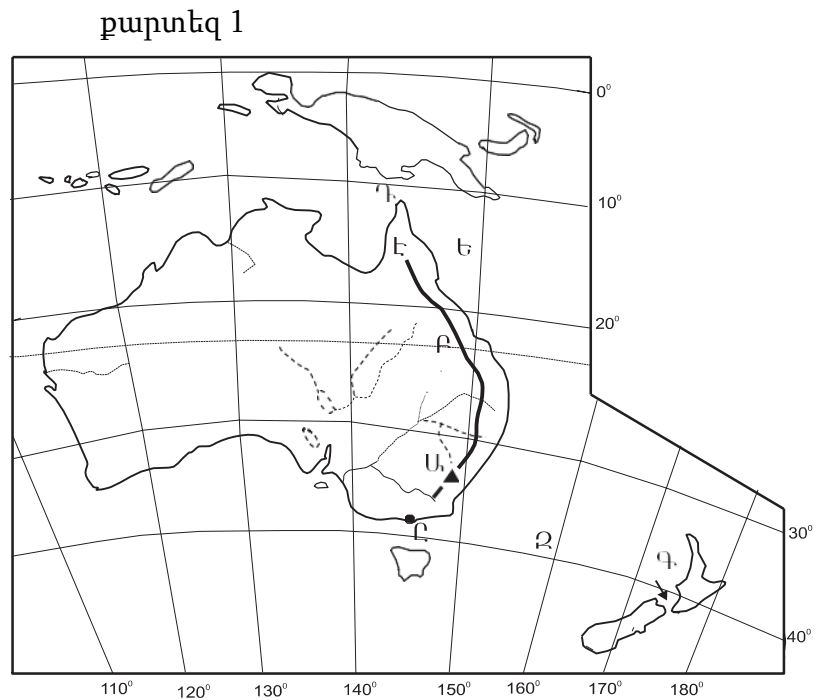
Քարտեզ 1-ում Դ տառով n՞ր նեղուցն է նշված.

- 1) Կուկի
- 2) Դբեյկի
- 3) Թորեսի
- 4) Բասսի

18

Քարտեզ 1-ում Ը տառով n՞ր նավահանգիստն է նշված.

- 1) Դարվին
- 2) Մելբուռն
- 3) Կանբերա
- 4) Սիդնեյ



19

Բնութագրումով որոշել թերակղզին.

Ասիայի մեծ թերակղզիներից է և ունի տիպիկ մուսսունային կլիմա: Տարածքի գերակշիռ մասը զբաղեցնում է աշխարհի խոշորագույն երկրներից մեկը: Ո՞ր թերակղզին է.

- 1) Սկանդինավյան
- 2) Արաբական
- 3) Հինդուստան
- 4) Հնդկաչին

20

Ո՞ր լեռնաշղթայից է սկիզբ առնում Հոենոս գետը:

- 1) Ալպերից
- 2) Բալկաններից
- 3) Անդերից
- 4) Պիրենեյներից

21

Նշված ծովային հոսանքներից ո՞րն է սառը.

- 1) Լաբրադորյանը
- 2) Անտիլյանը
- 3) Գոլֆստրիմը
- 4) Ալյասկայինը

22

Հյուսիսային Ամերիկայում աճում են.

- 1) սելբա և բաոբաբ
- 2) հնեա և էվկալիպտ
- 3) ակացիա և ժենշեն
- 4) բիզոնի խոտ և սեքվոյա

23

Հարավային Ամերիկայում է.

- 1) Գվիանական սարահարթը
- 2) Կորդիլիերյան լեռնաշղթան
- 3) Առափնյա դաշտավայրը
- 4) Դեմավենդ լեռնագագաթը

24

Ո՞ր լիճն է Հարավային Ամերիկայում:

- 1) Միչիգան
- 2) Արալյան
- 3) Տիտիկակա
- 4) Լադոգա

25

Անտարկտիդան հայտնաբերել են.

- 1) ռուսները
- 2) շվեդները
- 3) անգլիացիները
- 4) ամերիկացիները

26

Ո՞ր նեղուցով է Արաբական թերակղզին բաժանվում Աֆրիկայից.

- 1) Բար-Էլ-Մանդեբի
- 2) Լապերուզի
- 3) Մալակկայի
- 4) Լա Մանշի

27

Տարածքի մեծությամբ աշխարհի գերխոշոր պետություններ են.

- 1) Նիկարագուան և Մեքսիկան
- 2) Իտալիան և Շվեյցարիան
- 3) Կանադան և Ավստրալիան
- 4) Ֆրանսիան և Մեծ Բրիտանիան

28

Նշվածներից ո՞ր երկիրն ունի ավելի քան 200 մլն բնակիչ.

- 1) Ռուսաստանը
- 2) Ինդոնեզիան
- 3) Ճապոնիան
- 4) Ղազախստանը

29

Նշվածներից ո՞ր երկիրը ելք ունի դեպի Պարսից ծոց.

- 1) Եգիպտոսը
- 2) Իրանը
- 3) Սիրիան
- 4) Լիբանանը

30

Հետամնաց ագրարային երկրներ են.

- 1) Քուվեյթը և Վենեսուելան
- 2) Չադը և Եթովպիան
- 3) Հնդկաստանը և Չինաստանը
- 4) Արգենտինան և Մեքսիկան

31

Երկրի տարածքը կազմում է 20000 կմ², բնակչության թիվը՝ 7 մլն մարդ: Բնակչության միջին խտությունը կլինի.

- 1) 420 մարդ/ կմ²
- 2) 350 մարդ/ կմ²
- 3) 130 մարդ/ կմ²
- 4) 270 մարդ/ կմ²

32 Միգրացիայի պատճառ չէ.

- 1) ազգայինը
- 2) կազմակերպվածը
- 3) տնտեսականը
- 4) քաղաքականը

33 Քաղաքաբնակների բացարձակ թվով աշխարհում առաջին երկիրն է.

- 1) Չինաստանը
- 2) Ռուսաստանը
- 3) Հնդկաստանը
- 4) Պակիստանը

34 Ջարգացման արդյունաբերական փուլում գտնվող երկրներ են.

- 1) Բրազիլիան և Արգենտինան
- 2) Գերմանիան և Բելգիան
- 3) Ֆրանսիան և Իտալիան
- 4) Սոցիալիզմի և Բանգլադեշը

35 Գազի հանույթով առաջատար երկրներ են.

- 1) Ավստրալիան և Հնդկաստանը
- 2) Գերմանիան ու Ֆրանսիան
- 3) Նիդեռլանդները և Ռուսաստանը
- 4) Չինաստանը և Ճապոնիան

36 Շաքարեղեգի մշակությամբ աշխարհում առաջատար երկրներից է.

- 1) Ճապոնիան
- 2) Ռուսաստանը
- 3) Բրազիլիան
- 4) Կանադան

37 Չույզերով տրված պետություններից որո՞նք ունեն ցամաքային սահման ՌԴ հետ:

- 1) Թուրքիա և Իրան
- 2) Շվեդիա և Հայաստան
- 3) Էստոնիա և Վրաստան
- 4) Ուկրաինա և Մոլդովա

38

Ընտրել «պետություն-մայրաքաղաք» համապատասխանությունների ճիշտ շարքը:

- | | |
|-----------------|--------------|
| 1. Ավստրիա | ա. Ամստերդամ |
| 2. Բելգիա | բ. Փարիզ |
| 3. Նիդեռլանդներ | գ. Բրյուսել |
| 4. Ֆրանսիա | դ. Վիենա |

- 1) 1-բ, 2-ա, 3-դ, 4-գ
- 2) 1-գ, 2-բ, 3-ա, 4-դ
- 3) 1-դ, 2-գ, 3-ա, 4-բ
- 4) 1-ա, 2-դ, 3-գ, 4-բ

39

Դեպի Կասպից ծով ելք ունի.

- 1) Արարական Միացյալ Էմիրությունները
- 2) Իրանը
- 3) Աֆղանստանը
- 4) Սաուդյան Արաբիան

40

Ո՞ր պետությունն է գտնվում Հարավային Ասիայում:

- 1) Ճապոնիա
- 2) Պակիստան
- 3) Չինաստան
- 4) Մոնղոլիա

41

Չույզերով տրված պետություններից որո՞նք են միապետություն:

- 1) Մարոկկո և Եթովպիա
- 2) Եգիպտոսը և Թունիսը
- 3) Սվազիլենդը և Լեսոտոն
- 4) Ալժիր և Նիգերիա

42

Իտալիային պատկանող կղզի է.

- 1) Կորսիկան
- 2) Թասմանիան
- 3) Սիցիլիան
- 4) Կալիմանտանը

43

«Կեղծ ուրբանիզացիան» բնորոշ է.

- 1) Հյուսիսային Ամերիկային
- 2) Լատինական Ամերիկային
- 3) Արևմտյան Եվրոպային
- 4) Հարավային Եվրոպային



քարտեզ 2

44

Քարտեզ 2-ում Գոգի լեռնազագաթը ո՞ր տառով է նշված.

- 1) Դ
- 2) Ա
- 3) Բ
- 4) Գ

45

Քարտեզ 2-ում Քաջարանի հանքը ո՞ր տառով է նշված.

- 1) Ը
- 2) Ե
- 3) Զ
- 4) Է

46

ՀՀ-ի վերաբերյալ ո՞ր պնդումն է ճիշտ.

- 1) Հյուսիսում սահմանակից է Թուրքիային
- 2) Ամենաերկար սահմանն ունի Իրանի հետ:
- 3) Արևմուտքում սահմանակից է Վրաստանին:
- 4) Արևելքում սահմանակից է Ադրբեջանին:

47

ՀՀ կլիմայի վերաբերյալ ո՞ր պնդումն է ճիշտ.

- 1) Միջլեռնային գոգավորությունների ցածրադիր մասերում ձմռանը դիտվում է ջերմաստիճանային շրջադասություն:
- 2) Ամենաշատ տեղումները թափվում են Արփայի գոգավորությունում:
- 3) Հստակ արտահայտված է հյուսիսից հարավ փոփոխվող լայնակի կլիմայական գոտիականությունը:
- 4) Կլիմայաստեղծ գործոններից են մուսսոնները:

48

Մինչխորհրդային Հայաստանում տնտեսության ո՞ր ճյուղերին էր բաժին ընկնում արդյունաբերության համախառն արտադրանքի գերակշիռ մասը.

- 1) պղնձաձուլությանը և գինու-կոնյակի արտադրությանը
- 2) շվեյցարական պանրագործությանը և մրգի պահածոների արտադրությանը
- 3) սև մետաղաձուլությանը և կաշվի-կոշիկի արտադրությանը
- 4) գորգագործությանը և կաուչուկի արտադրությանը

49

Մեծամորի աէլի վերաբերյալ ո՞ր պնդումն է ճիշտ.

- 1) Արարատի մարզում է:
- 2) Միակ ատոմակայանն է հարավկովկասյան տարածաշրջանում:
- 3) Աշխատում է տեղական միջուկային վառելիքով:
- 4) ՀՀ ամենահզոր էլեկտրակայանն է:

50

Չույզերով տրվածներից որո՞նք են ոսկու հանքավայրեր.

- 1) Մեղրաձորը և Սոթքը
- 2) Կապանը և Ալավերդին
- 3) Քաջարանը և Ագարակը
- 4) Շվանիձորը և Թեժ լեռը

51

Թթվային անձրևների առաջացման պատճառներից է.

- 1) գործարաններից ծծմբային միացությունների արտանետումները
- 2) մթնոլորտում ածխաթթու գազի առկայությունը
- 3) խոշոր քաղաքներում զբոսաշրջության զարգացումը
- 4) հանքային պարարտանյութերի օգտագործման չարաշահումը

52

«Բնական ռեսուրս — վերականգնման հնարավորություն» գույզերից ընտրել ճիշտը:

- 1) հանքային ռեսուրս — սպառվող վերականգնվող
- 2) կենսաբանական ռեսուրս — անսպառ
- 3) կլիմայական ռեսուրս — սպառվող վերականգնվող
- 4) երկրաջերմային ռեսուրս — անսպառ

53

Տրվածներից ո՞րը հողաբարելավման միջոցառում չէ:

- 1) հակաէրոզիոն միջոցառումների կազմակերպումը
- 2) քարամաքրումը
- 3) ջրամբարների կառուցումը
- 4) գերխոնավ հողերի չորացումը

54

Տրվածներից ո՞րն է ՄԱԿ-ի հատուկ մասնագիտացված բնապահպանական կազմակերպություն:

- 1) ՅՈՒՆԵՍԿՕ
- 2) ՅՈՒՆԵՄԿՕ
- 3) ՅՈՒՆԻՄԵՖ
- 4) ՅՈՒՆԵՊ

55

Ո՞ր պնդումն է սխալ.

- 1) Թույլ զարգացած երկրներում բնապահպանական հիմնախնդիրներ չկան:
- 2) Թույլ զարգացած երկրների բնատեսուրսային ներուժը վիթխարի է, օգտագործման տեսանկյունից արդյունավետությունը՝ ցածր:
- 3) Թույլ զարգացած երկրներում զանգվածային անգրագիտությունը հետամնացության ցուցանիշներից է:
- 4) Թույլ զարգացած երկրների տնտեսության մեջ գերակշռողը գյուղատնտեսության բաժինն է:

56

Տրված են աշխարհի նշանավոր լճեր: Գրել մնացորդային ծագում ունեցող լճերը.

- | | |
|------------|----------|
| 1) Չադ | 5) Նյասա |
| 2) Կասպից | 6) Վերին |
| 3) Լադոգա | 7) Էյր |
| 4) Արալյան | 8) Սևանա |

57

Գրել այն գետերի համարները, որոնք թափվում են Հնդկական օվկիանոս.

- | | |
|-------------|------------|
| 1) Սիրդարյա | 5) Զամբեզի |
| 2) Մուրեյ | 6) Տիգրիս |
| 3) Ինդոս | 7) Օրանժ |
| 4) Մեկոնգ | 8) Նիգեր |

58

Գրել այն երկրների համարները, որոնց բնորոշ է «ժողովրդագրական ճգնաժամը».

- | | |
|-------------|------------|
| 1) Եմեն | 5) Թուրքիա |
| 2) Կանադա | 6) Իրան |
| 3) ԱՄՆ | 7) Լատվիա |
| 4) Ուկրաինա | 8) Սիրիա |

59

Գրել այն երկրների համարները, որտեղ գերակշռում է մահմեդականությունը.

- | | |
|--------------------|--------------|
| 1) Տաջիկստան | 5) Բանգլադեշ |
| 2) Հնդկաստան | 6) Պակիստան |
| 3) Հարավային Կորեա | 7) Ալբանիա |
| 4) Չինաստան | 8) Թուրքիա |

60

Գրել այն երկրների համարները, որոնք առաջատար են մեքենաշինությամբ.

- | | |
|--------------|--------------|
| 1) Ղազախստան | 5) Իրան |
| 2) Ավստրալիա | 6) Աֆղանստան |
| 3) Գերմանիա | 7) Թուրքիա |
| 4) Ճապոնիա | 8) Հնդկաստան |

61

Գրել այն բնակավայրերի համարները, որոնք երկաթուղային կայարաններ չեն.

- | | |
|-------------|---------------|
| 1) Մարտունի | 5) Վաղարշապատ |
| 2) Մարալիկ | 6) Արարատ |
| 3) Սոթք | 7) Աբովյան |
| 4) Վարդենիս | 8) Գորիս |

62

Տրված պետությունների համարները դասավորել դրանց տարածքի մեծության նվազման կարգով:

- 1) ԱՄՆ 2) Չինաստան 3) Ռուսաստան 4) Կանադա

63

ՀՀ տրված քաղաքների համարները դասավորել Երևանից ունեցած հեռավորության աճման կարգով.

- 1) Սևան 2) Բերդ 3) Աշտարակ

(64-65). Քաղաքի բնակչության թիվը 80 000 է, բնակչության բացարձակ բնական աճը՝ 1500 մարդ: Եկաճների թիվը 2200 մարդ է, մեկնաճների թիվը՝ 1800 մարդ:

64 Որոշել միգրացիայի մնացորդը:

65 Որոշել քաղաքի բնակչության թիվը 1 տարի հետո:

66 Երկրում ցորենի ցանքատարածությունների մակերեսը 4 մլն հա է, համախառն բերքը՝ 16 մլն տ: Որքա՞ն է ցորենի միջին բերքատվությունը:

67 24000 կՎտ/ժ էլեկտրաէներգիա արտադրելու համար քանի՞ տոննա քարածուխ է հարկավոր(քարածխի ջերմային գործակիցը 1 է):

68

Երկրի բնակչության թիվը 12 մլն մարդ է, տարածքի մակերեսը՝ 80 000 կմ²: Որքա՞ն է երկրի բնակչության միջին խտությունը:

69

Հայկական լեռնաշխարհի վերաբերյալ տրված պնդումներից որո՞նք են ճիշտ, որո՞նք՝ սխալ.

- 1) Արևելյան Եփրատի միջլեռնային գոգավորություններից են Խնուսի, Մշո և Խարբերդի դաշտերը:
- 2) Բասենի դաշտը տարածվում է Ճորոխ գետի վերին հոսանքի ավազանում:
- 3) Խարբերդի դաշտում միախառնվում են Արևմտյան Տիգրիս և Արևելյան Տիգրիս գետերը:
- 4) Արևելյան Եփրատի հովտում ամենաբարձրադիրը Ալաշկերտի դաշտն է:
- 5) Երզնկայի դաշտը Արևմտյան Եփրատի վերին հոսանքի ավազանում է:
- 6) Կարնո դաշտը Արևմտյան Եփրատի հովտում է:

70

ՀՀ Կոտայքի մարզի վերաբերյալ տրված պնդումներից որո՞նք են ճիշտ, որո՞նք՝ սխալ.

- 1) Կենտրոնական շրջաններում տիրապետողը կիսաանապատային լանդշաֆտներն են:
- 2) ՀՀ միակ մարզն է, որը չունի արտաքին սահմաններ:
- 3) Այս մարզում են Հատիս և Արայի լեռների հրաբխային կոները:
- 4) Շատ հարուստ է հանքային աղբյուրներով:
- 5) Անտառները տարածվում են մարզի արևելյան շրջաններում:
- 6) Արևմտյան սահմանն անցնում է Գեղամա հրաբխային լեռնավահանի ջրբաժան գծով: